

Guía de repaso de geometría 5° Básico

## Tipos de ángulos

I. Completa y une con una línea el texto con el dibujo correspondiente.

Un ángulo \_\_\_\_\_ mide  $90^\circ$ .



Un ángulo \_\_\_\_\_ mide  $180^\circ$ .



Un ángulo \_\_\_\_\_ mide más de  $90^\circ$  y menos de  $180^\circ$ .



Un ángulo \_\_\_\_\_ mide menos de  $90^\circ$ .



II. Mide los siguientes ángulos con tu transportador y clasifícalos según su medida.



Mide....

\_\_\_\_\_



Mide....

\_\_\_\_\_



Mide....

\_\_\_\_\_



Mide....

\_\_\_\_\_

III.-

## Diferentes tipos de ángulos

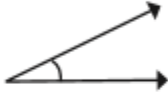
Observa los siguientes ángulos y píntalos con lápiz:

- Rojo: recto

- Verde: agudo

- Amarillo: obtuso

1)



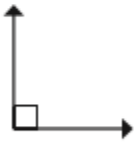
2)



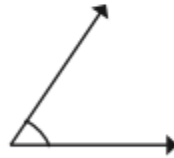
3)



4)



5)



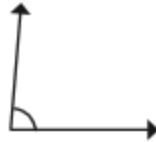
6)



7)



8)



9)



IV.-

## Cuerpos geométricos

Observa los diferentes cuerpos geométricos y completa el cuadro.

Cuerpos	N° caras	N° lados	N° vértices