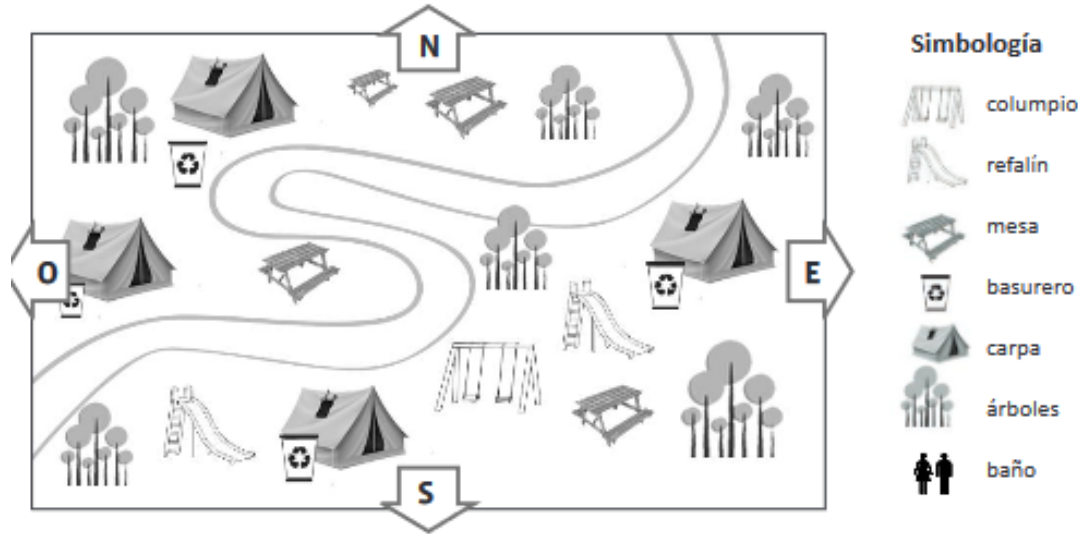


GUÍA DE APRENDIZAJE 3° BÁSICOS

LECTURA DE UN PLANO

Observa, piensa y responde.



¿Qué símbolos se usan en este plano? _____

En el camping, ¿cuántas familias independientes caben? _____

¿Hay una mesa para cada familia? _____

¿Qué hay al lado de cada carpa? _____ ¿Lo consideras

importante? _____

¿Por qué? _____

Los juegos para niños, ¿están a la izquierda o a la derecha del camino? _____

A este camping le falta algo que es muy importante para todas las personas: _____

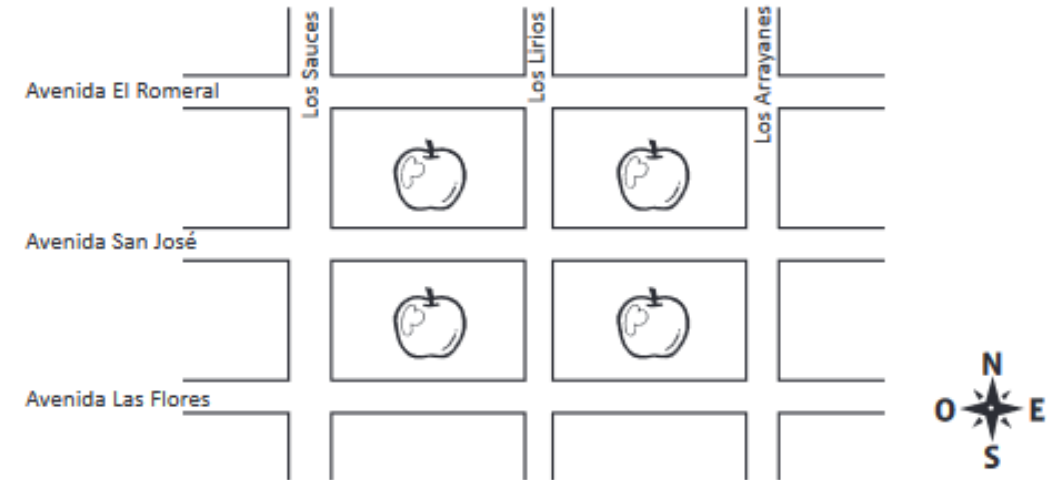
Dibújalo tú.

¿Te gustaría ir a este camping? ¿Por qué? _____

GUÍA DE APRENDIZAJE 3° BÁSICOS

COMPLETAR UN PLANO

Lee las instrucciones y completa el plano.



Dibuja:

- Una estrella amarilla en la intersección de la Avenida Las Flores con Los Lirios.
- Un verde en la intersección de Los Arrayanes con la Avenida El Romeral.
- Una roja en la intersección de la Avenida San José con Los Sauces.

Pinta con color:

- Naranja: la manzana que está entre la Avenida El Romeral, la Avenida San José, Los Lirios y Los Arrayanes.
- Azul: la manzana que está entre Los Sauces, Los Lirios, la Avenida Las Flores y la Avenida San José.

Dibuja con símbolos:

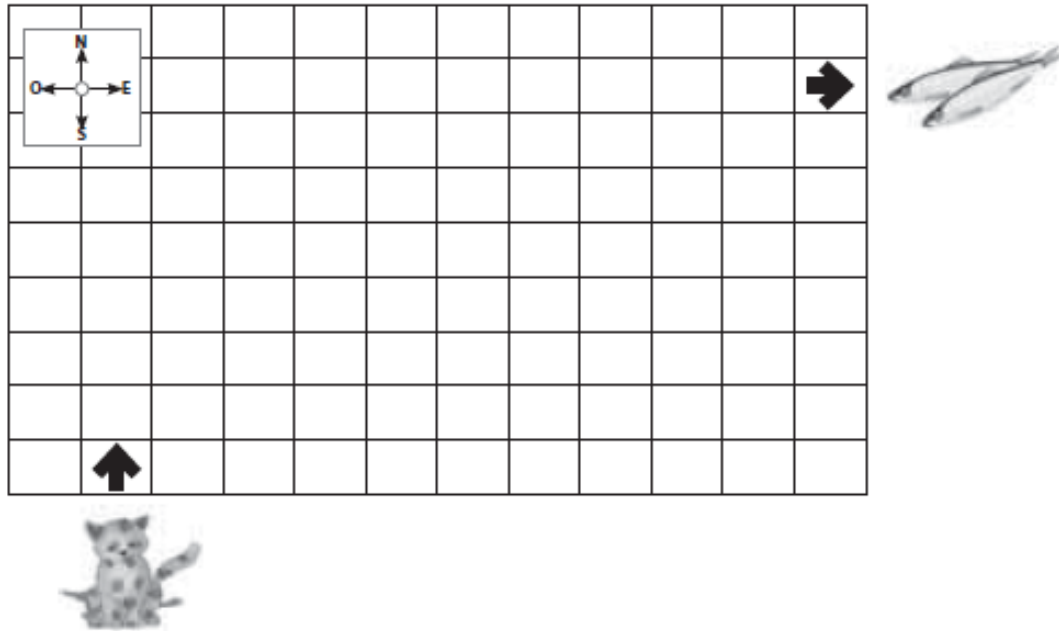
- Un árbol: al sur de la manzana de color naranja.
- Una casa: al oeste de la manzana de color azul.
- Un edificio: al norte de la manzana de color naranja.
- Una escuela: al este de la manzana de color azul.



GUÍA DE APRENDIZAJE 3° BÁSICOS

UBICACIÓN RELATIVA

1. Sigue las instrucciones y traza el camino para ayudar al gato Suertudo a llegar a su alimento.



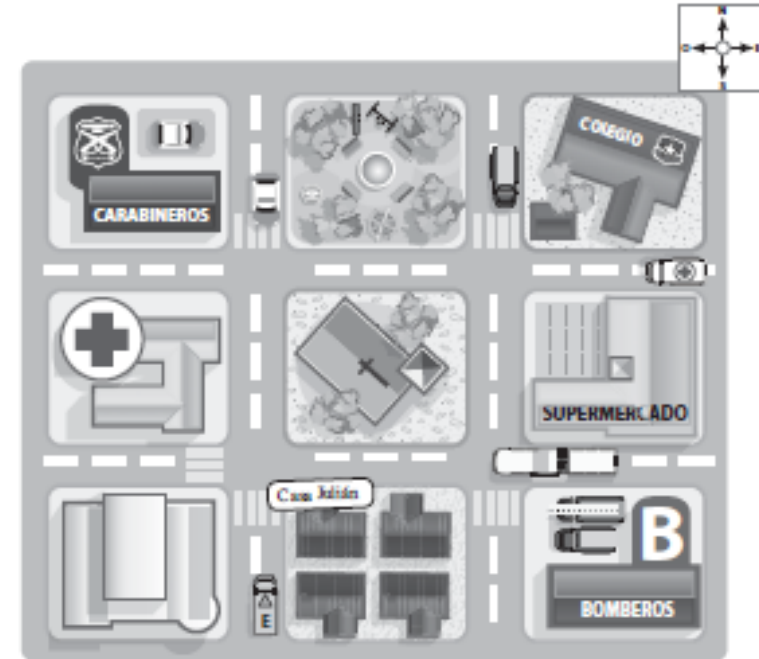
- a. Avanza tres cuadros hacia el norte.
- b. Avanza cuatro cuadros al este.
- c. Avanza un cuadro hacia el sur.
- d. Avanza tres cuadros al este.
- e. Avanza tres cuadros al norte y dos cuadros al oeste.
- f. Avanza dos cuadros al norte y cuatro cuadros al este.



GUÍA DE APRENDIZAJE 3° BÁSICOS

EL PLANO

Observa el plano y realiza las actividades



- a. Al sur de la plaza se encuentra la _____.
 - b. Julián vive al este del _____.
 - c. El colegio se encuentra al _____ del supermercado y al _____ de la plaza.
 - d. Encierra el lugar que se encuentra al sur de Carabineros.
2. ¿Qué es un plano y para qué sirve?
